





Guía de Estudio de Matemática 2° Año


Encierra decenas, completa el cuadro y luego escribe el número en la línea.



D	U

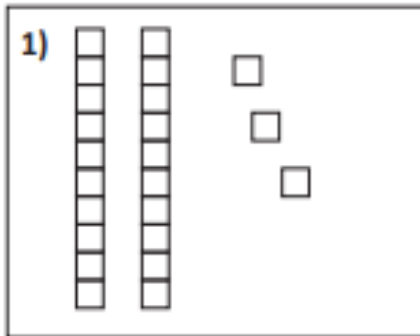


D	U

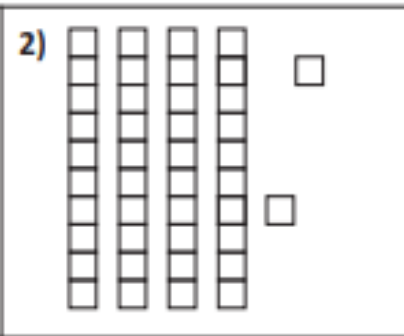


D	U

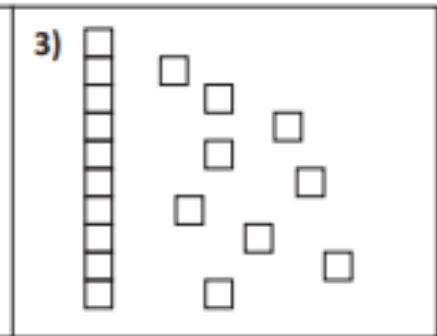
Cuenta las decenas y unidades y completa las líneas.



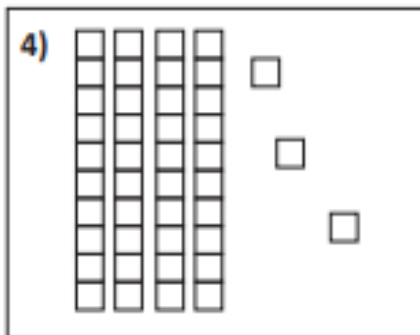
Decenas: _____
 Unidades sueltas: _____
 Unidades en total: _____



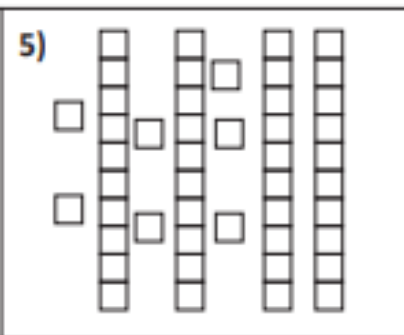
Decenas: _____
 Unidades sueltas: _____
 Unidades en total: _____



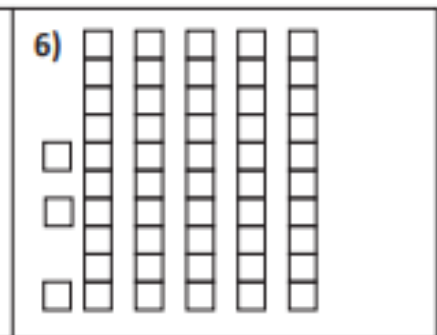
Decenas: _____
 Unidades sueltas: _____
 Unidades en total: _____



Decenas: _____
 Unidades sueltas: _____
 Unidades en total: _____



Decenas: _____
 Unidades sueltas: _____
 Unidades en total: _____



Decenas: _____
 Unidades sueltas: _____
 Unidades en total: _____

Ordena los números menor a mayor.

96 64 87 78	<u>64</u>	<u>78</u>	<u>87</u>	<u>96</u>
92 49 27 74	_____	_____	_____	_____
34 14 84 43	_____	_____	_____	_____
57 35 42 75	_____	_____	_____	_____
58 83 28 35	_____	_____	_____	_____
62 95 56 29	_____	_____	_____	_____
17 87 71 48	_____	_____	_____	_____
41 16 62 26	_____	_____	_____	_____
52 25 70 17	_____	_____	_____	_____

Ahora ordena los números de mayor a menor.

39 84 92 73	<u>92</u>	<u>84</u>	<u>73</u>	<u>39</u>
18 59 36 81	_____	_____	_____	_____
44 24 34 54	_____	_____	_____	_____
13 35 74 51	_____	_____	_____	_____
77 68 89 97	_____	_____	_____	_____
11 30 19 21	_____	_____	_____	_____
97 60 98 77	_____	_____	_____	_____
65 39 92 84	_____	_____	_____	_____
81 17 28 67	_____	_____	_____	_____

Escribe el número Antecesor y Sucesor en estas secuencias.

_____ 45 _____	_____ 17 _____
_____ 25 _____	_____ 71 _____
_____ 4 _____	_____ 56 _____
_____ 30 _____	_____ 80 _____
_____ 21 _____	_____ 62 _____
_____ 12 _____	_____ 99 _____